



# เรื่อง

## ข้อมูลสื่อ

หน่วยการเรียนรู้ เส้นขนาน  
ระดับชั้น ประถมศึกษาปีที่ 5  
มาตรฐานการเรียนรู้/ตัวชี้วัด ค 2.2 ป.5/1

## จุดประสงค์

ระบุเส้นตรงคู่ที่ขนานกัน โดยพิจารณา  
จากระยะห่างระหว่างเส้นตรง

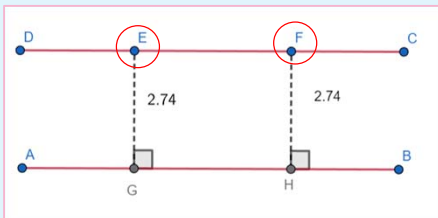
## คำชี้แจง

- ใช้เป็นสื่อสำหรับนักเรียน,ครูและผู้สนใจศึกษา เรื่อง เส้นขนาน ที่พิจารณาได้จากระยะห่างระหว่างเส้นตรง 2 เส้น

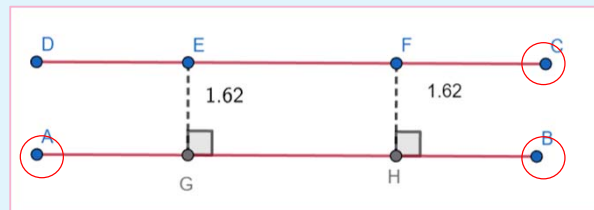
## แนะนำวิธีการใช้สื่อ

1. เปิดสื่อ Geogebra
2. พิจารณาตอบคำถาม “ส่วนของเส้นตรงคู่ใดขนานกัน เพราะเหตุใด”
3. ภาพซ้ายมือแสดงส่วนของเส้นตรงคู่หนึ่งที่มีระยะห่างระหว่างเส้นตรง 2 เส้น เท่ากันเสมอ

~~☒~~ เลื่อน จุด E และ จุด F ได้อย่างอิสระ

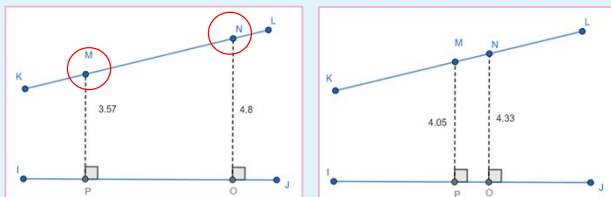


~~☒~~ เลื่อน จุด A , จุด B และ จุด C ได้อย่างอิสระ

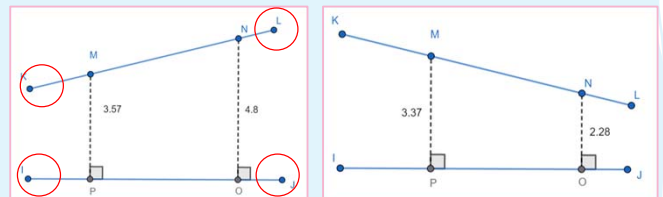


4. ภาพขวามือแสดงส่วนของเส้นตรงคู่หนึ่งที่มีระยะห่างระหว่างเส้นตรง 2 เส้น ไม่เท่ากันเสมอ

~~☒~~ เลื่อน จุด M และ จุด N ได้อย่างอิสระ



~~☒~~ เลื่อน จุด I , จุด J , จุด K ,จุด L ได้อย่างอิสระ



~~☒~~  คำตอบ เพื่อแสดงคำตอบของคำถามในข้อ 2.



## สื่อ/แหล่งการเรียนรู้เพิ่มเติม

- หนังสือเรียน ชั้นประถมศึกษาปีที่ 5 เล่มที่ 2
- ใบงาน เรื่อง เส้นขนาน